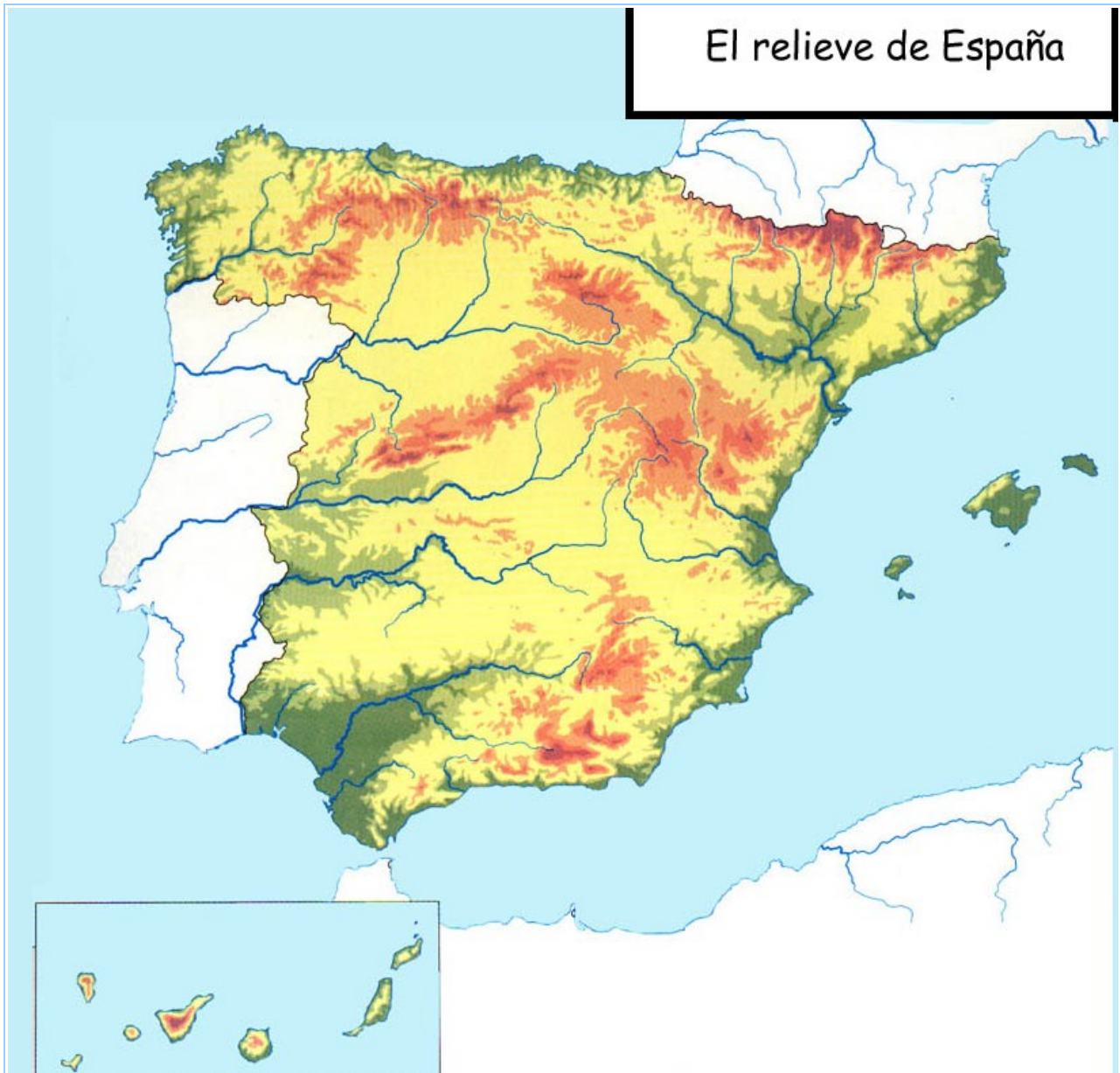


Alumno/a: \_\_\_\_\_

1. Observa el siguiente mapa de España. Se trata de un mapa “físico” en el que se representan las principales unidades naturales del relieve: montañas, valles, ríos, islas de nuestro país. Escribe los nombres de las siguientes unidades geográficas, colocándolas en el lugar del mapa que les corresponda:

- Mar Mediterráneo, valle del Guadalquivir, río Ebro, Pirineos, Cordillera Bética andaluza, islas Baleares.



2. Observa el siguiente mapa de Europa. Se trata de un mapa “político” porque en él se representan Estados europeos. Coloca en el mapa los siguientes nombres:

- España, Portugal, Francia, Reino Unido, Italia, Alemania.



3. La ciudad de Cádiz fue fundada por los fenicios hacia el 800 a.C. (“a.C.” significa “antes del nacimiento de Cristo”, hecho a partir del cual se establecen las fechas de nuestro calendario). A lo largo de la historia, España y Andalucía han sido pobladas por diversos pueblo. Partiendo de la información anterior sobre Cádiz, **ordena**, de los más antiguos a los más recientes, estos cinco pueblos que han colonizado Andalucía y España a lo largo de los siglos:

**Desordenados:**

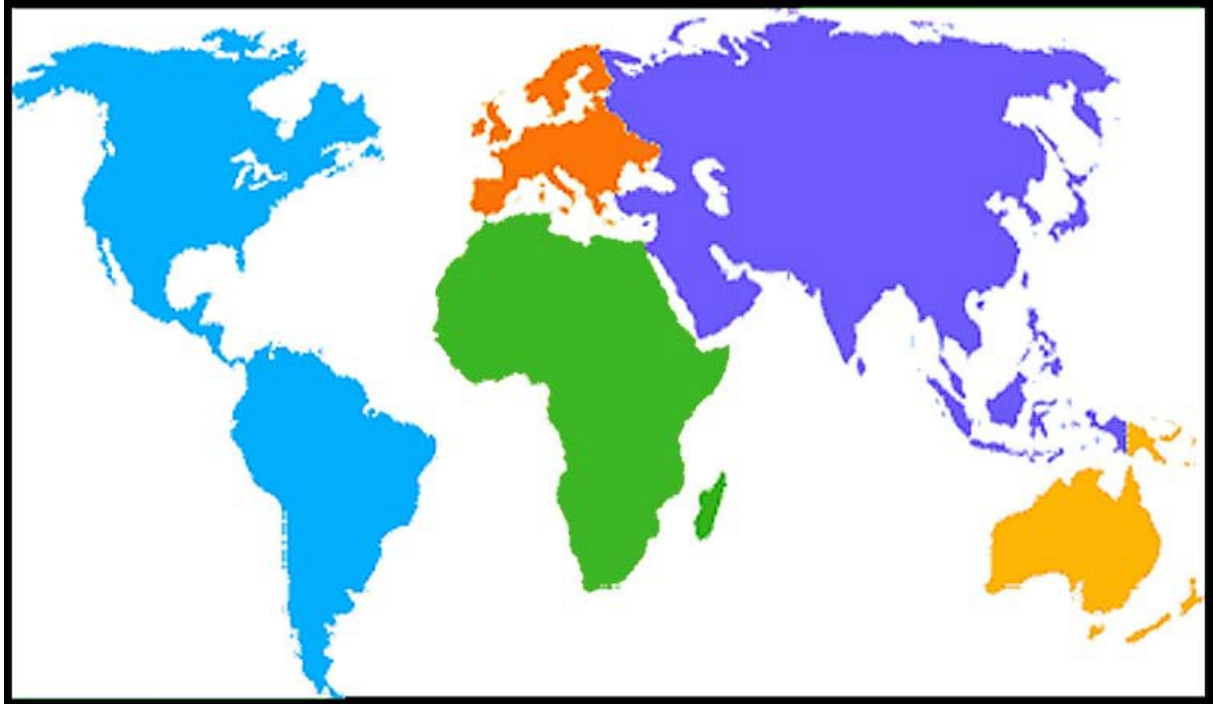
- Castellanos.
- Romanos.
- Árabes.
- Fenicios.
- Visigodos.

**Ordenados:**


- 1º .....
- 2º .....
- 3º .....
- 4º .....
- 5º .....

4. Observa el siguiente **planisferio**. Ya hemos visto nuestro continente, **Europa**. Puedes comprobar su posición y compararlo con los restantes del mundo. Asigna el nombre a cada uno de los siguientes continentes:

- **África, América, Asia.**



5. ¿Con cuáles de los anteriores cinco **pueblos y culturas** de la Historia de España están relacionados estos **monumentos y obras de arte**? Une con una **flecha** el nombre y la **fotografía**.



*Castellanos*  
*Romanos*  
*Árabes*  
*Fenicios*  
*Visigodos*



6. Vamos a **ordenar** las siguientes fechas históricas, de las más **antiguas** a las más **recientes**. Fíjate primero en el **ejemplo** ya resuelto:

**Desordenadas:**

- Año 1975.
- Año 476.
- Año 30.
- Año 2008.
- Año 27 a.C.
- Año 1492.
- Año 218 a.C.

**Ordenadas:**

- Año 218 a.C.
- Año 27 a.C.
- Año 30.
- Año 476.
- Año 1492.
- Año 1975
- Año 2008.

Del mismo modo anterior, **ordena** las siguientes fechas históricas, de las más **antiguas** a las más **reciente**:

**Desordenadas:**

- Año 2009.
- Año 711.
- Año 1104 a.C.
- Año 1485.
- Año 206 a.C.
- Año 1262.
- Año 1808.

**Ordenadas:**

- .....
- .....
- .....
- .....
- .....
- .....
- .....

7. **Relaciona**, uniendo con una **flecha**, los términos de la columna izquierda con su **“pareja”** correspondiente de la columna derecha (fíjate en los ejemplos):

- |                             |   |   |
|-----------------------------|---|---|
| A. Hombres del Paleolítico. | → | [B] Descubrimiento de América.              |
| B. Cristóbal Colón.         | → | [ ] Califa de Córdoba.                      |
| C. Abderramán III           | → | [A] Cazadores y recolectores prehistóricos. |
| D. Cortes de Cádiz.         |   | [ ] Pintor andaluz del Barroco.             |
| E. Golpe militar de Franco. |   | [ ] Constitución de 1812.                   |
| F. Segunda Guerra Mundial.  |   | [ ] Guerra Civil Española.                  |
| G. Diego Velázquez.         |   | [ ] Bomba atómica sobre Hiroshima(Japón).   |

8. Hoy en día utilizamos nombres que indican diferentes **formas de poder** ¿Sabrías asignar a cada **expresión** su **definición**? **Relaciona**, uniendo con una **flecha**, términos de la columna izquierda con su **“pareja”** de la derecha.

- |                  |                           |
|------------------|---------------------------|
| A. Aristocracia. | [ ] Sin gobierno.         |
| B. Monarquía.    | [ ] Gobierno de uno solo. |
| C. Democracia.   | [ ] Poder del pueblo.     |
| D. Anarquía.     | [ ] Poder de los nobles.  |
| E. Teocracia.    | [ ] Poder de la religión. |

9. En **Historia**, los **hechos** que se narran deben situarse correctamente en el **espacio** y en el **tiempo**, o sea que debe indicarse “**donde**” y “**cuando**” se produjeron. También deben indicarse sus **causas**, o sea “**por qué**” sucedieron, y sus **consecuencias**. Teniendo en cuenta lo anterior, **explica** cualquier acontecimiento de **tu propia vida**, de tu historia personal, situándolo en el **espacio**, en el **tiempo**, con sus **causas** y **consecuencias**. Hazlo con un mínimo de **cinco líneas** y un máximo de **quince**.